


Name: _____

Klasse: _____



Minikänguru 2017 - Klasse 1



3 Punkte


A-1

$$20 - 17 + 2 + 0 + 1 + 7 =$$

10	14	13	12	11

A-2

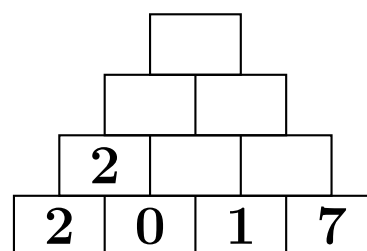
Es sind weiße Knöpfe mehr als schwarze.



7	8	9	10	17

A-3

Rechne! Welche Zahl steht ganz oben?



12	13	11	9	10

A-4

Park bis Kino: 7 Kilometer
 Kino bis Zoo: 3 Kilometer
 Park bis Zoo: Kilometer




7	3	4	10	13

4 Punkte

B-1

Ich sehe 3 Vögel und 2 Katzen. Alle Tiere zusammen haben Beine.

18	10	5	12	14

B-2

Das Känguru hat Platz 6. Der Koala hat Platz 15. Zwischen Känguru und Koala gibt es Plätze.

9	10	8	15	6

B-3

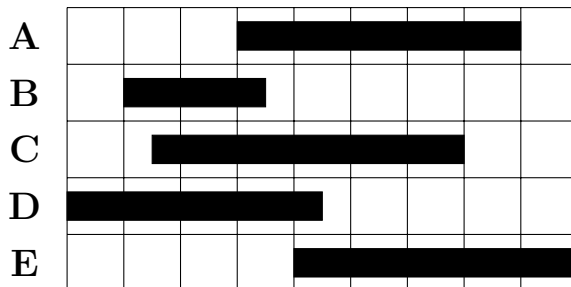
Am Ufer sitzen 12 Frösche. 7 Frösche hüpfen in den See. 4 Frösche davon hüpfen wieder zurück.

Jetzt sitzen Frösche am Ufer.

15	5	9	16	10

B-4

Welcher Streifen ist der längste?



A	B	C	D	E

5 Punkte

C-1

Am Montag springt das Känguru 2 Meter weit. Jeden Tag springt das Känguru einen Meter weiter.

Am Freitag springt das Känguru Meter weit.

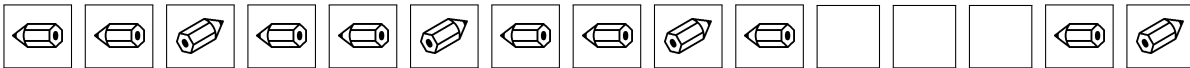
5	6	7	8	9

C-2

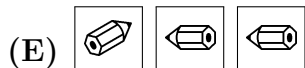
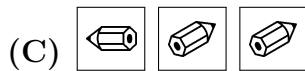
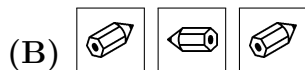
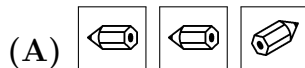
Das Känguru hat im September Geburtstag. Der Koala hat 5 Monate früher Geburtstag.

Der Koala hat im Monat Geburtstag.

März	Juni	April	Januar	Februar

C-3

Welche Karten fehlen?



A	B	C	D	E

C-4

Eintrittspreise Zoo :
Kinder : 3 Euro
Erwachsene : 6 Euro

Herr Meier und Frau Meier gehen mit ihren 2 Kindern in den Zoo. Sie bezahlen zusammen Euro.

9	12	6	20	18